




5 正の数・負の数トランプゲーム





★トランプの黒札は財産（プラス）、赤札は借金（マイナス）を表すことを約束します。

黒札		3万円の ・ ・ 財産	ジョーカー		・ ・ 0円
赤札		3万円の ・ ・ 借金			

















ルール

- ①カードをよく切って配り、ババ抜きの変則で自分の隣から1枚とり、次の人に自分のカードを1枚とらせ、これをくり返します。
- ②自分のカードの得点を計算しながらとなりの人にカードをとられたとき、ストップをかけることができます。（ストップをかけられるのは、2週目からです）
- ③ストップがかかったら、みんなの点数を表に記入します。ただし、ストップをかけた人が最高点でなかったときには、最低点の人とカードを全部交換して得点を記入します。
- ④最高点だった人には、勝利者ゲームをする権利が与えられます。

得点例

 +2点	 -1点	 +4点	 -3点	A君の得点は +2点になる
--	--	--	--	------------------

<練習1> 4人のカードが次のようになりました。それぞれ何点になりますか。

<p>A</p>    	<p>B</p>    	<p>C</p>    	<p>D</p>    
_____点	_____点	_____点	_____点