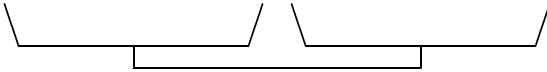
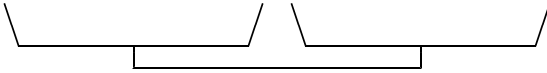



## 課題②

< 1 > リンゴ 1 個の重さは 200 g である。スイカ 1 個の重さは何 g だろうか。



< 2 > リンゴ 1 個の重さは 200 g である。スイカ 1 個の重さは何 g だろうか。

