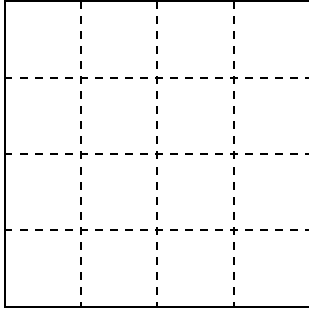


○ 正方形がいくつ作れますか（課題）

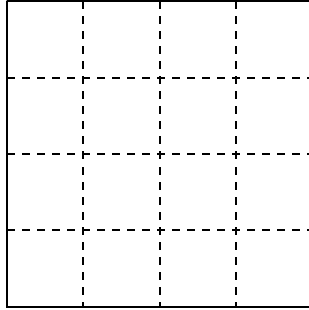
【課題1】下の1cm方眼紙をつかって、面積が $1\text{ cm}^2 \sim 10\text{ cm}^2$ の大きさの違う正方形を書きなさい。

①



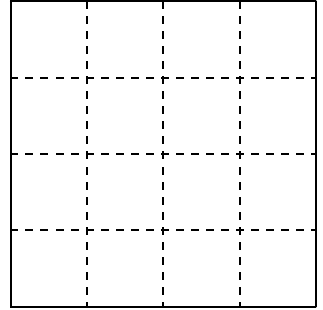
面積 1 cm^2

②



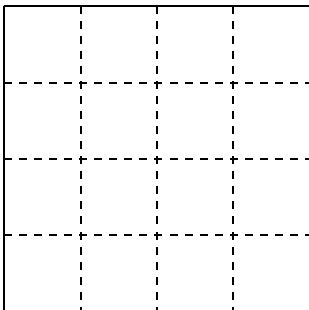
面積 2 cm^2

③



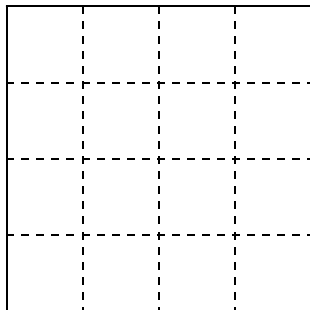
面積 4 cm^2

④



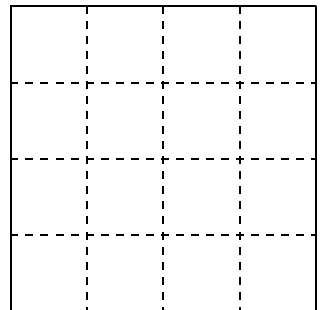
面積 5 cm^2

⑤



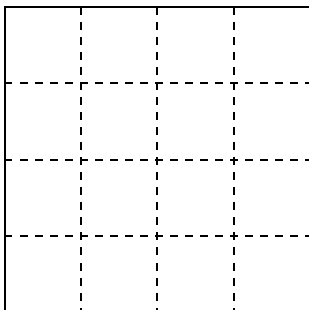
面積 8 cm^2

⑥



面積 9 cm^2

⑦



面積 10 cm^2

【課題2】

なぜ面積が 2 cm^2 ですか。 なぜ面積が 5 cm^2 ですか。

【課題3】

面積 cm^2	1	2	4	5	8	9	10